

Всероссийская олимпиада школьников по ОБЖ 2022–2023 уч. г.
Школьный этап 7-8 классы г. Норильск

**ВСЕРОССИЙСКАЯ ОЛИМПИАДА ШКОЛЬНИКОВ
ПО ОБЖ 2022–2023 уч. г.
ШКОЛЬНЫЙ ЭТАП
7–8 классы**

И

Уважаемый участник!

При выполнении заданий Вам предстоит выполнить определённую работу, которую лучше организовать следующим образом:

- внимательно прочитайте задание;
- если Вы отвечаете на теоретический вопрос или решаете ситуационную задачу, обдумайте и сформулируйте конкретный ответ (ответ должен быть кратким, и его содержание следует вписать в отведённое поле; пишите чётко и разборчиво);
- при ответе на тестовые задания определите верный ответ и обведите кружком букву (буквы), соответствующую(-ие) выбранному Вами ответу.

За каждый правильный ответ Вы можете получить определённое членами жюри количество баллов, не выше указанной максимальной оценки.

Сумма набранных баллов за все решённые вопросы в двух форматах – итог Вашей работы. Максимальное количество баллов – 100.

Задания считаются выполненными, если Вы вовремя сдали их членам жюри.


Время выполнения заданий 60 минут

Желаем успеха!

Тестовые задания

Определите один правильный ответ.

За правильный ответ начисляется 2 балла.

- 1. Движение организованной пешеходной колонны по проезжей части дороги разрешается только по направлению движения транспортных средств по правой стороне не более чем по**
а) два человека в ряд
 б) три человека в ряд
в) четыре человека в ряд
г) пять человек в ряд
- 2. Что означает следующий символ, используемый в международной кодовой таблице сигналов бедствия?** 
а) нужны медикаменты
б) нужны оружие и боеприпасы
в) нужны компас и карты
г) нужны продовольствие и вода
- 3. Сколько классов разрушений включает специальная шкала, разработанная для оценки разрушительной силы смерчей?**
а) 4 класса
в) 5 классов
б) 6 классов
г) 7 классов
- 4. Объясните цель дезактивации.**
в) удаление или снижение радиоактивного загрязнения с какой-либо поверхности
а) нейтрализация отравляющих веществ до нетоксичных продуктов и удаление их с какой-либо поверхности
б) уничтожение биологических средств во внешней среде и на какой-либо поверхности
г) измерение уровня радиоактивного загрязнения какой-либо поверхности
- 5. Оцените силу землетрясения в 7 баллов по шкале Меркалли.**
в) в домах раскачиваются висятые предметы, скрипят полы, дребезжат стёкла, осыпается побелка
а) значительные повреждения некоторых зданий, трещины в штукатурке, отламываются её отдельные куски, тонкие трещины в стенах
б) лёгкое повреждение некоторых зданий, тонкие трещины в штукатурке
г) разрушения в зданиях, большие трещины в стенах, падают карнизы, дымовые трубы

6. **Определите комплект средств защиты органов дыхания, который обеспечит наилучшую защиту от окиси углерода.**

- √ а) ГП-7
- б) ГП-7 + ДПГ-3
- в) ГП-5 + ДПГ-1
- г) ПДФ-2Ш

0

7. **С какого года отмечается День солидарности в борьбе с терроризмом?**

- а) 2001
- √ б) 2004
- в) 1999
- г) 2011

2

8. **Какое негативное воздействие оказывает никотин на организм человека?**

- а) канцерогенное
- б) нарушение способности эритроцитов переносить кислород
- в) повреждение печени
- √ г) в малых дозах возбуждает, а в больших дозах тормозит деятельность клеток центральной нервной системы

9. **Какое из перечисленных кровотечений в течение 3–5 минут приведёт к кровопотере, угрожающей жизни пострадавшего?**

- √ а) кровотечение из вен нижней трети предплечья
- √ б) кровотечение из бедренной артерии
- в) кровотечение из артерий стопы
- г) носовое кровотечение

2

10. **Какой процент по отношению к площади общей поверхности тела составляет ладонь человека?**

- а) 10%
- б) 5%
- в) 3%
- √ г) 1%

2

104

Определите все правильные ответы.
За каждый правильный ответ начисляется 2 балла.

11. **Что относят к опасным факторам пожара?**

- а) пламя и искры
- б) снижение видимости в дыму
- в) опасные факторы взрыва, происшедшего вследствие пожара
- г) воздействие огнетушащих веществ
- д) обрушение зданий и сооружений

4

12. **По степени воздействия на организм вредные вещества бывают**

- а) не опасные
- б) малоопасные
- в) высокотоксичные
- г) умеренно опасные
- д) смертельно опасные

2

13. **К спасательному инвентарю на оборудованном пляже относят**

- а) спасательный жилет
- б) спасательную шлюпку
- в) спасательную лодку
- г) спасательные шары
- д) спасательный плот

2

14. **Выделите действия, которые целесообразно выполнить при подготовке к землетрясению.**

- а) плотно разместить тяжёлые предметы на антресолях
- б) приблизить кровати к наружным стенам
- в) документы и рюкзак с набором вещей хранить в одном месте
- г) отодвинуть мебель от стен
- д) договориться о месте сбора после землетрясения

6

15. **Укажите основные признаки приближения бури.**

- а) быстро увеличивается атмосферное давление
- б) неожиданно прекращается ветер и образуется затишье
- в) резко падает атмосферное давление
- г) усиливается скорость ветра
- д) солнце скрывается в тучах

6

22

16. **Какие возможны виды эвакуации по длительности проведения?**
а) временная (с возвращением на место жительства в течение нескольких суток)
✓ б) продолжительная (на срок более одного месяца)
в) годовичная (на срок 12 месяцев)
г) кратковременная (на срок 1–3 дня)
д) сезонная (на срок от 3 до 6 месяцев) 24
17. **Слово «террор» в переводе (с латыни) означает**
а) страх
б) паника
в) крайность
✓ г) ужас
д) преступление 26
18. **Какие показатели самоконтроля, применяемые для профилактики переутомления, относятся к субъективным?**
а) частота сердечных сокращений
б) самочувствие
в) сон
г) частота дыхания
д) величина артериального давления 0
19. **Какие из перечисленных средств входят в состав аптечки первой помощи (автомобильной)?**
а) кожный антисептик (хлоргексидин)
б) шина эластичная
в) жгут кровоостанавливающий
г) медицинские перчатки
д) обезболивающее средство (анальгин) 0
20. **Какие признаки характерны для ушиба конечности?**
а) отёк, гематома
б) деформация конечности
в) укорочение конечности
г) нарушение функции конечности
д) патологическая подвижность в месте повреждения 6






Максимум за задания 60 баллов.

Теоретические задания

Задание 1

Впишите в таблицу смысловое значение знаков сервиса.

Ответ:

Максимум за задание 10 баллов.

Задание 2

Разработайте памятку из пяти пунктов по подготовке к эвакуации.

Максимум за задание 10 баллов.

Задание 3

Укажите какие террористические акты являются наиболее опасными.

Максимум за задание 10 баллов.

Задание 4

Термический ожог – повреждение тканей, возникшее вследствие местного воздействия высокой температуры.

Опишите мероприятия первой помощи пострадавшему с термическими ожогами, полученными во время пожара вследствие горения одежды. Локализация ожогов – преимущественно задняя поверхность туловища. Одежда уже не горит, сквозь остатки одежды видна мокнущая поверхность кожи (вскрывшиеся пузыри). Пострадавший в сознании.

Максимум за задание 10 баллов.

Максимум за работу 100 баллов.

см 9 ОБИИ 08 42 05

Всероссийская олимпиада школьников по ОБЖ 2022–2023 уч. г.
Школьный этап 7-8 классы г. Норильск

ВСЕРОССИЙСКАЯ ОЛИМПИАДА ШКОЛЬНИКОВ
ПО ОБЖ. 2022–2023 уч. г.
ШКОЛЬНЫЙ ЭТАП. 7–8 КЛАССЫ

48

Практический тур

**(РЕКОМЕНДОВАНО ПРОВОДИТЬ В
СПОРТЗАЛЕ В ВИДЕ ЕДИНОГО МАРШРУТА).**

Маршрутная карта практического тура

Проверка умений применять полученные знания в области безопасности на практике осуществляется в ходе выполнения практических заданий.

1. Определение сторон света, расстояния до объекта по велосипедному маршруту движения

Участник стоит перед столом. На столе персональный компьютер (ноутбук, гаджет) с доступом в Интернет, на экране электронная карта Норильска.

Участник по команде члена жюри в течение 2 минут определяет стороны света на карте и расстояние по велосипедному маршруту движения от нулевого километра (памятник В.И. Ленину) до МУЗЕЯ НОРИЛЬСКА (Ленинский проспект).

1.1. Определение сторон света

№	Перечень ошибок и погрешностей	Штраф
1	Не определён север	10 баллов
2	Не определены стороны света (юг, запад, восток)	5 баллов (за каждую)
Оценка задания с учётом штрафных баллов 25 <u>- 10</u> = 15		Подпись судьи <u>СР</u>

1.2. Определение расстояния до объекта по велосипедному маршруту движения

№	Перечень ошибок и погрешностей	Штраф
1	Расстояние не определено	10 баллов
2	Допущена ошибка в определении расстояния(50 м)	5 баллов
Оценка задания с учётом штрафных баллов 10 <u>- 0</u> = 10		Подпись судьи <u>СР</u>

Участник, затративший на выполнение задания более 2 минут, получает 0 баллов.

2. Действия по сигналу регулировщика при следовании на велосипеде. Оказание первой помощи пострадавшему в ДТП. Вызов службы спасения

Перед участником имитация перекрёстка с пешеходным переходом и светофором (обозначен малярным скотчем на полу), регулировщиком (хронометрист или помощник), карточки с сигналом регулировщика.

Участник по команде члена жюри выбирает 3 карточки с сигналом регулировщика, регулировщик показывает сигналы, обучающийся на велосипеде действует согласно сигналу регулировщика (допускается катить велосипед).

2.1. Действия по сигналам регулировщика

№	Перечень ошибок и погрешностей	Штраф
1	Неправильные действия по одному сигналу	10 баллов
2	Неправильные действия по двум сигналам	20 баллов
Оценка задания с учётом штрафных баллов 20 <u>-10</u> = 10		Подпись судьи <u>СР</u>

2.2 Оказание первой помощи при синдроме длительного сдавливания

№	Перечень ошибок и погрешностей	Штраф
1	Попытка приподнять предмет, придавивший нижние конечности, до наложения жгута (смерть пострадавшего)	20 баллов <u>СР</u>
2	Не произведено наложение жгута выше места сдавливания (возможна смерть пострадавшего)	20 баллов
3	К сдавленным конечностям не приложен холод	5 баллов
4	Пострадавшему не предложено питьё	5 баллов
Оценка задания с учётом штрафных баллов 20 <u>-20</u> = 0		Подпись судьи <u>СР</u>


2.3. Вызов службы спасения

№	Перечень ошибок и погрешностей	Штраф
1	Не вызвана служба спасения	10 баллов
2	Не указан адрес места происшествия	5 баллов
3	Не указано число пострадавших	2 балла
Оценка задания с учётом штрафных баллов 10 <u>-0</u> = 10		Подпись судьи <u>СР</u>

3. Порядок надевания средств индивидуальной защиты при пожаре на пострадавшего

Перед участником расположен манекен (пострадавший) и фильтрующий самоспасатель.

Участник по команде члена жюри надевает фильтрующий самоспасатель на манекен (пострадавшего).

№	Перечень ошибок и погрешностей	Штраф
1	Полумаска на лице не закрывает рот, нос или подбородок	5 баллов
2	Самоспасатель не надет	15 баллов
Оценка задания с учётом штрафных баллов 15 <u>- 15</u> = 0		Подпись судьи 

Условия подсчёта результата

Штрафные баллы начисляются за каждую ошибку согласно регламенту.

Результат за каждый этап вычисляется путём вычитания из максимально возможного количества баллов за этап количества штрафных баллов.

Если количество штрафных баллов больше максимального количества баллов за этап, ставится 0 баллов.

Итоговый результат вычисляется путём суммирования полученных баллов за все этапы.

Сумма штрафных баллов: 55 баллов

Общий результат: 45 баллов

сч 9 ОБЖ 08 42 06

Всероссийская олимпиада школьников по ОБЖ 2022–2023 уч. г.
Школьный этап 7-8 классы г. Норильск

**ВСЕРОССИЙСКАЯ ОЛИМПИАДА ШКОЛЬНИКОВ
ПО ОБЖ 2022–2023 уч. г.
ШКОЛЬНЫЙ ЭТАП**

7–8 классы

24

Уважаемый участник!

При выполнении заданий Вам предстоит выполнить определённую работу, которую лучше организовать следующим образом:

- внимательно прочитайте задание;
- если Вы отвечаете на теоретический вопрос или решаете ситуационную задачу, обдумайте и сформулируйте конкретный ответ (ответ должен быть кратким, и его содержание следует вписать в отведённое поле; пишите чётко и разборчиво);
- при ответе на тестовые задания определите верный ответ и обведите кружком букву (буквы), соответствующую(-ие) выбранному Вами ответу.

За каждый правильный ответ Вы можете получить определённое членами жюри количество баллов, не выше указанной максимальной оценки.

Сумма набранных баллов за все решённые вопросы в двух форматах – итог Вашей работы. Максимальное количество баллов – 100.

Задания считаются выполненными, если Вы вовремя сдали их членам жюри.

Время выполнения заданий 60 минут

Желаем успеха!

Тестовые задания


Определите один правильный ответ.

За правильный ответ начисляется 2 балла.

1. Движение организованной пешеходной колонны по проезжей части дороги разрешается только по направлению движения транспортных средств по правой стороне не более чем по

 - а) два человека в ряд
 - б) три человека в ряд
 - в) четыре человека в ряд
 - г) пять человек в ряд

b
2. Что означает следующий символ, используемый в международной кодовой таблице сигналов бедствия?


 - а) нужны медикаменты
 - б) нужны оружие и боеприпасы
 - в) нужны компас и карты
 - г) нужны продовольствие и вода

2
3. Сколько классов разрушений включает специальная шкала, разработанная для оценки разрушительной силы смерчей?

 - а) 4 класса
 - б) 5 классов
 - в) 6 классов
 - г) 7 классов

2
4. Объясните цель дезактивации.

 - а) удаление или снижение радиоактивного загрязнения с какой-либо поверхности
 - б) нейтрализация отравляющих веществ до нетоксичных продуктов и удаление их с какой-либо поверхности
 - в) уничтожение биологических средств во внешней среде и на какой-либо поверхности
 - г) измерение уровня радиоактивного загрязнения какой-либо поверхности

0
5. Оцените силу землетрясения в 7 баллов по шкале Меркалли.

 - а) в домах раскачиваются висятые предметы, скрипят полы, дребезжат стёкла, осыпается побелка
 - б) значительные повреждения некоторых зданий, трещины в штукатурке, отламываются её отдельные куски, тонкие трещины в стенах
 - в) лёгкое повреждение некоторых зданий, тонкие трещины в штукатурке
 - г) разрушения в зданиях, большие трещины в стенах, падают карнизы, дымовые трубы

0

6. **Определите комплект средств защиты органов дыхания, который обеспечит наилучшую защиту от окиси углерода.**
а) ГП-7
б) ГП-7 + ДПГ-3
в) ГП-5 + ДПГ-1
г) ПДФ-2Ш
7. **С какого года отмечается День солидарности в борьбе с терроризмом?**
а) 2001
√ б) 2004
в) 1999
г) 2011
8. **Какое негативное воздействие оказывает никотин на организм человека?**
а) канцерогенное
б) нарушение способности эритроцитов переносить кислород
в) повреждение печени
г) в малых дозах возбуждает, а в больших дозах тормозит деятельность клеток центральной нервной системы
9. **Какое из перечисленных кровотечений в течение 3–5 минут приведёт к кровопотере, угрожающей жизни пострадавшего?**
√ а) кровотечение из вен нижней трети предплечья
√ б) кровотечение из бедренной артерии
в) кровотечение из артерий стопы
г) носовое кровотечение
10. **Какой процент по отношению к площади общей поверхности тела составляет ладонь человека?**
а) 10%
б) 5%
в) 3%
√ г) 1%

10

Определите все правильные ответы.
За каждый правильный ответ начисляется 2 балла.

11. **Что относят к опасным факторам пожара?**
✓а) пламя и искры
✓б) снижение видимости в дыму
в) опасные факторы взрыва, происшедшего вследствие пожара
г) воздействие огнетушащих веществ
д) обрушение зданий и сооружений
12. **По степени воздействия на организм вредные вещества бывают**
а) не опасные
✓б) малоопасные
в) высокотоксичные
г) умеренно опасные
д) смертельно опасные
13. **К спасательному инвентарю на оборудованном пляже относят**
✓а) спасательный жилет
✓б) спасательную шлюпку
в) спасательную лодку
г) спасательные шары
д) спасательный плот
14. **Выделите действия, которые целесообразно выполнить при подготовке к землетрясению.**
а) плотно разместить тяжёлые предметы на антресолях
б) приблизить кровати к наружным стенам
в) документы и рюкзак с набором вещей хранить в одном месте
г) отодвинуть мебель от стен
д) договориться о месте сбора после землетрясения
15. **Укажите основные признаки приближения бури.**
✓а) быстро увеличивается атмосферное давление
б) неожиданно прекращается ветер и образуется затишье
в) резко падает атмосферное давление
г) усиливается скорость ветра
д) солнце скрывается в тучах

16. **Какие возможны виды эвакуации по длительности проведения?**
а) временная (с возвращением на место жительства в течение нескольких суток)
 б) продолжительная (на срок более одного месяца) 2
в) годичная (на срок 12 месяцев)
г) кратковременная (на срок 1–3 дня)
д) сезонная (на срок от 3 до 6 месяцев)
17. **Слово «террор» в переводе (с латыни) означает**
а) страх
б) паника
в) крайность
 г) ужас 2
д) преступление
18. **Какие показатели самоконтроля, применяемые для профилактики переутомления, относятся к субъективным?**
а) частота сердечных сокращений
 б) самочувствие 2
в) сон
г) частота дыхания
д) величина артериального давления
19. **Какие из перечисленных средств входят в состав аптечки первой помощи (автомобильной)?**
а) кожный антисептик (хлоргексидин)
б) шина эластичная 0
в) жгут кровоостанавливающий
г) медицинские перчатки
д) обезболивающее средство (анальгин)
20. **Какие признаки характерны для ушиба конечности?**
а) отёк, гематома 0
б) деформация конечности
в) укорочение конечности
г) нарушение функции конечности
д) патологическая подвижность в месте повреждения






Максимум за задания 60 баллов.

Теоретические задания

Задание 1

Впишите в таблицу смысловое значение знаков сервиса.

Ответ:

Максимум за задание 10 баллов.

Задание 2

Разработайте памятку из пяти пунктов по подготовке к эвакуации.

Максимум за задание 10 баллов.

Задание 3

Укажите какие террористические акты являются наиболее опасными.

Максимум за задание 10 баллов.

Задание 4

Термический ожог – повреждение тканей, возникшее вследствие местного воздействия высокой температуры.

Опишите мероприятия первой помощи пострадавшему с термическими ожогами, полученными во время пожара вследствие горения одежды. Локализация ожогов – преимущественно задняя поверхность туловища. Одежда уже не горит, сквозь остатки одежды видна мокнущая поверхность кожи (вскрывшиеся пузыри). Пострадавший в сознании.

Максимум за задание 10 баллов.

Максимум за работу 100 баллов.

сч ОБЖ 08 ч 2 06

Всероссийская олимпиада школьников по ОБЖ 2022–2023 уч. г.
Школьный этап 7-8 классы г. Норильск

30

ВСЕРОССИЙСКАЯ ОЛИМПИАДА ШКОЛЬНИКОВ
ПО ОБЖ. 2022–2023 уч. г.
ШКОЛЬНЫЙ ЭТАП. 7–8 КЛАССЫ

Практический тур

**(РЕКОМЕНДОВАНО ПРОВОДИТЬ В
СПОРТЗАЛЕ В ВИДЕ ЕДИНОГО МАРШРУТА).**

Маршрутная карта практического тура


Проверка умений применять полученные знания в области безопасности на практике осуществляется в ходе выполнения практических заданий.

1. Определение сторон света, расстояния до объекта по велосипедному маршруту движения

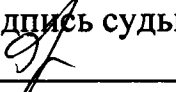
Участник стоит перед столом. На столе персональный компьютер (ноутбук, гаджет) с доступом в Интернет, на экране электронная карта Норильска.

Участник по команде члена жюри в течение 2 минут определяет стороны света на карте и расстояние по велосипедному маршруту движения от нулевого километра (памятник В.И. Ленину) до МУЗЕЯ НОРИЛЬСКА (Ленинский проспект).

1.1. Определение сторон света

№	Перечень ошибок и погрешностей	Штраф
1	Не определён север	10 баллов
2	Не определены стороны света (юг, запад, восток)	5 баллов (за каждую)
Оценка задания с учётом штрафных баллов 25 <u>-25</u> = 0		Подпись судьи 

1.2. Определение расстояния до объекта по велосипедному маршруту движения

№	Перечень ошибок и погрешностей	Штраф
1	Расстояние не определено	10 баллов
2	Допущена ошибка в определении расстояния(50 м)	5 баллов
Оценка задания с учётом штрафных баллов 10 <u>-0</u> = 10		Подпись судьи 


Участник, затративший на выполнение задания более 2 минут, получает 0 баллов.

2. Действия по сигналу регулировщика при следовании на велосипеде. Оказание первой помощи пострадавшему в ДТП. Вызов службы спасения

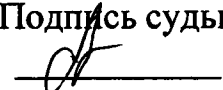
Перед участником имитация перекрёстка с пешеходным переходом и светофором (обозначен малярным скотчем на полу), регулировщиком (хронометрист или помощник), карточки с сигналом регулировщика.

Участник по команде члена жюри выбирает 3 карточки с сигналом регулировщика, регулировщик показывает сигналы, обучающийся на велосипеде действует согласно сигналу регулировщика (допускается катить велосипед).


2.1. Действия по сигналам регулировщика

№	Перечень ошибок и погрешностей	Штраф
1	Неправильные действия по одному сигналу	10 баллов
2	Неправильные действия по двум сигналам	20 баллов
Оценка задания с учётом штрафных баллов		Подпись судьи
20	<u> 10 </u> = 10	

2.2 Оказание первой помощи при синдроме длительного сдавливания

№	Перечень ошибок и погрешностей	Штраф
1	Попытка приподнять предмет, придавивший нижние конечности, до наложения жгута (смерть пострадавшего)	20 баллов
2	Не произведено наложение жгута выше места сдавления (возможна смерть пострадавшего)	20 баллов
3	К сдавленным конечностям не приложен холод	5 баллов
4	Пострадавшему не предложено питьё	5 баллов
Оценка задания с учётом штрафных баллов		Подпись судьи
20	<u> 20 </u> = 0	


2.3. Вызов службы спасения

№	Перечень ошибок и погрешностей	Штраф
1	Не вызвана служба спасения	10 баллов
2	Не указан адрес места происшествия	5 баллов
3	Не указано число пострадавших	2 балла
Оценка задания с учётом штрафных баллов		Подпись судьи
10	<u> 0 </u> = 10	

3. Порядок надевания средств индивидуальной защиты при пожаре на пострадавшего

Перед участником расположен манекен (пострадавший) и фильтрующий самоспасатель.

Участник по команде члена жюри надевает фильтрующий самоспасатель на манекен (пострадавшего).

№	Перечень ошибок и погрешностей	Штраф
1	Полумаска на лице не закрывает рот, нос или подбородок	5 баллов
2	Самоспасатель не надет	15 баллов
Оценка задания с учётом штрафных баллов 15 <u>— 15</u> = 0		Подпись судьи 

Условия подсчёта результата

Штрафные баллы начисляются за каждую ошибку согласно регламенту.

Результат за каждый этап вычисляется путём вычитания из максимально возможного количества баллов за этап количества штрафных баллов.

Если количество штрафных баллов больше максимального количества баллов за этап, ставится 0 баллов.


Итоговый результат вычисляется путём суммирования полученных баллов за все этапы.

Сумма штрафных баллов:


70
баллов

Общий результат:

30
баллов




1.




2.



3.



4.



5.



6.



СВ



2ГИС
Класс. Яндекс
Актуальности

МАСШТАБ 1:5000

Памятник В.И. Ленину

Музей



Ленинский проспект

Георгиевская
площадь

Ленинский проспект

Норильский никель

Пушкина

Сквер им.
Пушкина

Площадь
Героев

Кот и пёс

Айкя

Antilage Clinic

Набережная Урванцева

ИН
Инвитро

Кирова

Кебэб-биз

Лен

